

Series : YW4XZ



SET~1

प्रश्न-पत्र कोड
Q.P. Code

59/4/1

रोल नं.

Roll No.

○ ○ ○ ○ ○ ○ ○ ○

परीक्षार्थी प्रश्न-पत्र कोड को उत्तर-पुस्तिका के मुख-पृष्ठ पर अवश्य लिखें।

Candidates must write the Q.P. Code on the title page of the answer-book.



राजनीति विज्ञान
POLITICAL SCIENCE



निर्धारित समय : 3 घण्टे

Time allowed : 3 hours

अधिकतम अंक : 80

Maximum Marks : 80

	नोट	#	NOTE
(I)	कृपया जाँच कर लें कि इस प्रश्न-पत्र में मुद्रित पृष्ठ 19 हैं।	(I)	Please check that this question paper contains 19 printed pages.
(II)	प्रश्न-पत्र में दाहिने हाथ की ओर दिए गए प्रश्न-पत्र कोड को परीक्षार्थी उत्तर-पुस्तिका के मुख-पृष्ठ पर लिखें।	(II)	Q.P. Code given on the right hand side of the question paper should be written on the title page of the answer-book by the candidate.
(III)	कृपया जाँच कर लें कि इस प्रश्न-पत्र में 30 प्रश्न हैं।	(III)	Please check that this question paper contains 30 questions.
(IV)	कृपया प्रश्न का उत्तर लिखना शुरू करने से पहले, उत्तर-पुस्तिका में यथा स्थान पर प्रश्न का क्रमांक अवश्य लिखें।	(IV)	Please write down the Serial Number of the question in the answer-book at the given place before attempting it.
(V)	इस प्रश्न-पत्र को पढ़ने के लिए 15 मिनट का समय दिया गया है। प्रश्न-पत्र का वितरण पूर्वाह्न में 10.15 बजे किया जाएगा। 10.15 बजे से 10.30 बजे तक परीक्षार्थी केवल प्रश्न-पत्र को पढ़ेंगे और इस अवधि के दौरान वे उत्तर-पुस्तिका पर कोई उत्तर नहीं लिखेंगे।	(V)	15 minute time has been allotted to read this question paper. The question paper will be distributed at 10.15 a.m. From 10.15 a.m. to 10.30 a.m., the candidates will read the question paper only and will not write any answer on the answer-book during this period.



सामान्य निर्देश :

निम्नलिखित निर्देशों को बहुत सावधानी से पढ़िए और उनका पालन कीजिए :

- (i) इस प्रश्न-पत्र में **30** प्रश्न हैं। **सभी** प्रश्न **अनिवार्य** हैं।
- (ii) प्रश्न-पत्र **पाँच** खण्डों में विभाजित है – **खण्ड क, ख, ग, घ एवं ङ**।
- (iii) **खण्ड क** – प्रश्न संख्या **1** से **12** तक बहुविकल्पीय प्रकार के प्रश्न हैं। प्रत्येक प्रश्न **1** अंक का है।
- (iv) **खण्ड ख** – प्रश्न संख्या **13** से **18** तक लघु-उत्तरीय प्रकार के प्रश्न हैं। प्रत्येक प्रश्न **2** अंकों का है। प्रत्येक प्रश्न का उत्तर **50** से **60** शब्दों में लिखिए।
- (v) **खण्ड ग** – प्रश्न संख्या **19** से **23** तक दीर्घ-उत्तरीय प्रकार-I के प्रश्न हैं। प्रत्येक प्रश्न **4** अंकों का है। प्रत्येक प्रश्न का उत्तर **100** से **120** शब्दों में लिखिए।
- (vi) **खण्ड घ** – प्रश्न संख्या **24** से **26** अवतरण, कार्टून तथा मानचित्र-आधारित प्रश्न हैं। प्रत्येक प्रश्न **4** अंकों का है। प्रत्येक प्रश्न का उत्तर यथानुसार लिखिए।
- (vii) **खण्ड ङ** – प्रश्न संख्या **27** से **30** तक दीर्घ-उत्तरीय प्रकार-II के प्रश्न हैं। प्रत्येक प्रश्न **6** अंकों का है। प्रत्येक प्रश्न का उत्तर **170** से **180** शब्दों में लिखिए।
- (viii) प्रश्न-पत्र में कोई समग्र विकल्प नहीं है। यद्यपि, कुछ प्रश्नों में आंतरिक विकल्प का प्रावधान दिया गया है। इन प्रश्नों में से केवल **एक** ही प्रश्न का उत्तर लिखा जाए।
- (ix) इसके अतिरिक्त, ध्यान दें कि दृष्टिबाधित परीक्षार्थियों के लिए फोटो तथा मानचित्र आदि आधारित प्रश्नों के स्थान पर एक अन्य प्रश्न दिया गया है। इन प्रश्नों के उत्तर केवल दृष्टिबाधित परीक्षार्थी ही लिखें।

खण्ड क

प्रश्न संख्या **1** से **12** तक बहुविकल्पीय प्रकार के **1** अंक के प्रश्न हैं।

12×1=12

1. निम्नलिखित में से कौन-सा कथन 'सोवियत प्रणाली' के बारे में सही **नहीं** है ?

- (A) सभी नागरिकों के लिए एक सुनिश्चित न्यूनतम जीवन स्तर
- (B) रियायती दरों पर स्वास्थ्य सेवाएँ
- (C) उद्योगों और भूमि का निजी स्वामित्व
- (D) कल्याणकारी योजनाओं का प्रावधान



General Instructions :

Read the following instructions very carefully and follow them :

- (i) *This question paper contains **30** questions. **All** questions are **compulsory**.*
- (ii) *Question paper is divided into **five** sections – **Sections A, B, C, D and E**.*
- (iii) ***Section A** – questions number **1** to **12** are Multiple Choice type questions. Each question carries **1** mark.*
- (iv) ***Section B** – questions number **13** to **18** are Short Answer type questions. Each question carries **2** marks. Write answer to each question in **50** to **60** words.*
- (v) ***Section C** – questions number **19** to **23** are Long Answer type-I questions. Each question carries **4** marks. Write answer to each question in **100** to **120** words.*
- (vi) ***Section D** – questions number **24** to **26** are Passage, Cartoon and Map-based questions. Each question carries **4** marks. Answer each question accordingly.*
- (vii) ***Section E** – questions number **27** to **30** are Long Answer type-II questions. Each question carries **6** marks. Write answer to each question in **170** to **180** words.*
- (viii) *There is no overall choice in the question paper. However, an internal choice has been provided in few questions. Only **one** of the choices in such questions has to be attempted.*
- (ix) *In addition to this, NOTE that a separate question has been provided for Visually Impaired candidates in lieu of questions having visual inputs, map etc. Such questions are to be attempted by Visually Impaired candidates only.*

SECTION A

*Questions number **1** to **12** are Multiple Choice type questions, carrying **1** mark each.* $12 \times 1 = 12$

1. Which one of the following statements about the 'Soviet System' is **not** true ?
- (A) A minimum standard of living ensured for all citizens
 - (B) Subsidised health services
 - (C) Private ownership of industries and land
 - (D) Provision of welfare schemes



2. निम्नलिखित घटनाओं को कालक्रमानुसार व्यवस्थित कीजिए :
- रूस, यूक्रेन और बेलारूस ने सोवियत संघ के समाप्त होने की घोषणा की
 - मिखाइल गोर्बाचेव सोवियत संघ की कम्युनिस्ट पार्टी के महासचिव बने
 - रूस में सोवियत क्रांति
 - भारत-रूस रणनीतिक समझौता किया गया

सही विकल्प चुनिए :

- | | |
|----------------------------|----------------------------|
| (A) (i), (ii), (iii), (iv) | (B) (iii), (ii), (i), (iv) |
| (C) (iv), (iii), (i), (ii) | (D) (i), (iv), (iii), (ii) |

3. निम्नलिखित में से कौन-सा संयुक्त राष्ट्र संघ का अंग **नहीं** है ?

- | | |
|--------------------|--------------|
| (A) सुरक्षा परिषद् | (B) महासभा |
| (C) सचिवालय | (D) यूनेस्को |

4. उस देश को चुनिए जो संयुक्त राष्ट्र सुरक्षा परिषद् का स्थायी सदस्य **नहीं** है।

- | | |
|-----------|---------------------|
| (A) चीन | (B) रूस |
| (C) जापान | (D) यूनाइटेड किंगडम |

प्रश्न संख्या 5 के लिए, दो कथन दिए गए हैं – जिनमें एक को अभिकथन (A) तथा दूसरे को कारण (R) द्वारा अंकित किया गया है। इन कथनों को ध्यान से पढ़िए और नीचे दिए गए विकल्पों (A), (B), (C) और (D) में से उत्तर के रूप में सही विकल्प चुनिए।

5. अभिकथन (A) : भारत में वैश्वीकरण का प्रतिरोध ट्रेड यूनियनों और किसान हितैषी मजदूरों की ओर से हुआ है।

कारण (R) : बहुराष्ट्रीय निगमों ने लघु स्तरीय उद्योगों एवं कृषि के हितों को नुकसान पहुँचाया है।

विकल्प :

- अभिकथन (A) और कारण (R) दोनों सही हैं और कारण (R), अभिकथन (A) की सही व्याख्या करता है।
- अभिकथन (A) और कारण (R) दोनों सही हैं, परंतु कारण (R), अभिकथन (A) की सही व्याख्या **नहीं** करता है।
- अभिकथन (A) सही है, परंतु कारण (R) ग़लत है।
- अभिकथन (A) ग़लत है, परंतु कारण (R) सही है।

6. वैश्वीकरण का निम्नलिखित में से किसके प्रवाह से सम्बन्ध है ?

- | | |
|------------|-------------|
| (A) नदियों | (B) विचारों |
| (C) वायु | (D) प्रदूषण |



2. Arrange the following events in chronological order :
- (i) Russia, Ukraine and Belarus declared that Soviet Union was disbanded
 - (ii) Mikhail Gorbachev became the General Secretary of the Communist Party of Soviet Union
 - (iii) Soviet Revolution in Russia
 - (iv) Indo-Russian Strategic Agreement was made
- Choose the correct option :
- (A) (i), (ii), (iii), (iv)
 - (B) (iii), (ii), (i), (iv)
 - (C) (iv), (iii), (i), (ii)
 - (D) (i), (iv), (iii), (ii)
3. Which one of the following is **not** an organ of the United Nations Organization ?
- (A) Security Council
 - (B) General Assembly
 - (C) Secretariat
 - (D) UNESCO
4. Choose the country which is **not** a permanent member of the UN Security Council.
- (A) China
 - (B) Russia
 - (C) Japan
 - (D) United Kingdom

For Question number 5, two statements are given — one labelled as Assertion (A) and the other labelled as Reason (R). Read these statements carefully and choose the correct option as the answer from the options (A), (B), (C) and (D) given below.

5. **Assertion (A) :** Resistance to globalisation in India has come from Trade Unions and workforce representing farmers' interests.
- Reason (R) :** Multinational Corporations have damaged the interests of small scale industries and agriculture.
- Options :
- (A) Both Assertion (A) and Reason (R) are true and Reason (R) is the correct explanation of the Assertion (A).
 - (B) Both Assertion (A) and Reason (R) are true, but Reason (R) is **not** the correct explanation of the Assertion (A).
 - (C) Assertion (A) is true, but Reason (R) is false.
 - (D) Assertion (A) is false, but Reason (R) is true.
6. Globalisation is related to the flow of which of the following ?
- (A) Rivers
 - (B) Ideas
 - (C) Air
 - (D) Pollution



7. भारत में प्रथम आम चुनाव किस वर्ष में हुए थे ?
- (A) 1948 (B) 1949
(C) 1950 (D) 1952
8. निम्नलिखित में से कौन-सा राजनीतिक नेता कम्युनिस्ट पार्टी ऑफ इंडिया से संबंधित था ?
- (A) सी. राजगोपालाचारी (B) ए.के. गोपालन
(C) आचार्य नरेन्द्र देव (D) डॉ. बी.आर. अम्बेडकर
9. 'योजना आयोग' के बारे में सही कथन चुनिए :
- (A) इसको संवैधानिक दर्जा प्राप्त था ।
(B) योजना आयोग का गठन 1952 में किया गया था ।
(C) इसकी सिफारिशें राज्य सरकारों के लिए बाध्यकारी थीं ।
(D) इसकी भूमिका सिफारिशें करने के लिए एक सलाहकार की थी ।
10. प्रारंभिक वर्षों में योजनाकारों का मूल उद्देश्य क्या था ?
- (A) राष्ट्रीय आय के स्तर को उठाना था
(B) देश की सैन्य शक्ति में वृद्धि करनी थी
(C) राजनीतिक जागरूकता बढ़ाना था
(D) शिक्षा के स्तर को उठाना था
11. निम्नलिखित में से कौन-से प्रधानमंत्री के कार्यकाल में नए आर्थिक सुधारों की शुरुआत हुई ?
- (A) वी.पी. सिंह
(B) अटल बिहारी वाजपेयी
(C) राजीव गाँधी
(D) आई.के. गुजराल
12. 2004 के चुनावों में भारतीय राष्ट्रीय कांग्रेस द्वारा बनाए गए गठबंधन का सही नाम चुनिए ।
- (A) राष्ट्रीय जनतांत्रिक गठबंधन
(B) संयुक्त प्रगतिशील गठबंधन
(C) नेशनल फ्रंट (राष्ट्रीय मोर्चा)
(D) यूनाइटेड फ्रंट (संयुक्त मोर्चा)



7. In which year were the first General Elections held in India ?
(A) 1948 (B) 1949
(C) 1950 (D) 1952
8. Which one of the following political leaders belonged to the Communist Party of India ?
(A) C. Rajagopalachari (B) A.K. Gopalan
(C) Acharya Narendra Dev (D) Dr. B.R. Ambedkar
9. Choose the correct statement about 'Planning Commission' :
(A) It had a constitutional status.
(B) Planning Commission was set up in 1952.
(C) Its recommendations were binding on the State Governments.
(D) It had an advisory role to make recommendations.
10. One of the basic aims of the planners in the initial years was to _____.
(A) Raise the level of national income
(B) Raise the military power of the country
(C) Raise the political awareness
(D) Raise the standard of education
11. During the tenure of which Prime Minister were the new economic reforms started ?
(A) V.P. Singh
(B) Atal Bihari Vajpayee
(C) Rajiv Gandhi
(D) I.K. Gujral
12. Choose the correct name of the alliance made by the Indian National Congress in the elections of 2004.
(A) National Democratic Alliance
(B) United Progressive Alliance
(C) National Front
(D) United Front



खण्ड ख

13. पाकिस्तान के किन्हीं चार सैनिक शासकों के नाम लिखिए। $4 \times \frac{1}{2} = 2$
14. मूलवासियों को परिभाषित कीजिए। 2
15. वैश्वीकरण के कोई दो राजनीतिक परिणाम स्पष्ट कीजिए। 2
16. पहले तीन आम चुनावों में कांग्रेस पार्टी के प्रभुत्व के कोई दो कारण उजागर कीजिए। 2
17. 1962 में चीन द्वारा भारत पर किए गए आक्रमण के प्रभाव का विश्लेषण कीजिए। 2
18. मिज़ोरम में हुए अलगाववादी आंदोलन के परिणाम का आकलन कीजिए। 2

खण्ड ग

19. क्या समाजवादी अर्थव्यवस्था से पूँजीवादी अर्थव्यवस्था तक लाने के लिए शॉक थेरेपी आवश्यक थी ?
अपने उत्तर के पक्ष में दो तर्क लिखिए। $2 \times 2 = 4$
20. (क) बदलती हुई परिस्थितियों में संयुक्त राष्ट्र को अधिक प्रासंगिक बनाने के लिए सितंबर 2005 में सभी सदस्य देशों के अध्यक्षों द्वारा लिए गए निर्णय के अनुसार उठाए जाने वाले किन्हीं चार कदमों का उल्लेख कीजिए। $4 \times 1 = 4$

अथवा

- (ख) शीत युद्ध की समाप्ति के बाद विश्व में घटित हुए किन्हीं चार परिवर्तनों का उल्लेख कीजिए। $4 \times 1 = 4$
21. ऐसी किन्हीं चार पर्यावरणीय चिंताओं की व्याख्या कीजिए जो वैश्विक राजनीति के लिए महत्वपूर्ण बन चुकी हैं। $4 \times 1 = 4$
22. भारत में पाँचवें आम चुनाव से पूर्व घटी किन्हीं दो महत्वपूर्ण राजनीतिक घटनाओं का विश्लेषण कीजिए। $2 \times 2 = 4$
23. (क) 1975 में लगाए गए आपातकाल से सीखे गए किन्हीं दो सबकों (पाठों) की व्याख्या कीजिए। $2 \times 2 = 4$

अथवा

- (ख) 1975 में राष्ट्रीय आपातकाल घोषित करने के लिए सरकार द्वारा दिए गए किन्हीं दो कारणों की व्याख्या कीजिए। $2 \times 2 = 4$



SECTION B

13. Name any four military rulers of Pakistan. $4 \times \frac{1}{2} = 2$
14. Define the Indigenous people. 2
15. Explain any two political consequences of Globalisation. 2
16. Highlight any two reasons for the dominance of Congress Party in the first three general elections. 2
17. Analyse the impact of Chinese invasion on India in 1962. 2
18. Assess the result of Secessionist Movement in Mizoram. 2

SECTION C

19. Was Shock therapy necessary for making a transition from Socialist economy to Capitalist economy ? Support your answer with two arguments. $2 \times 2 = 4$
20. (a) State any four steps that the heads of all the member countries had decided to take in September 2005 to make the United Nations more relevant in the changing context. $4 \times 1 = 4$

OR

- (b) State any four changes that have occurred in the world after the end of the Cold War. $4 \times 1 = 4$
21. Explain any four environmental concerns that have become important for global politics. $4 \times 1 = 4$
22. Analyse any two important political happenings in India before the fifth general elections. $2 \times 2 = 4$
23. (a) Explain any two lessons learnt from the emergency imposed in 1975. $2 \times 2 = 4$

OR

- (b) Explain any two reasons that the government gave for imposing national emergency in 1975. $2 \times 2 = 4$



खण्ड घ

24. निम्नलिखित अवतरण को ध्यानपूर्वक पढ़िए और इस पर आधारित प्रश्नों के उत्तर दीजिए : 4×1=4

“ऐतिहासिक रूप से तिब्बत भारत और चीन के बीच विवाद का एक बड़ा मसला रहा है। अतीत में समय-समय पर चीन ने तिब्बत पर अपना प्रशासनिक नियंत्रण जताया और कई दफा तिब्बत आज़ाद भी हुआ। 1950 में चीन ने तिब्बत पर नियंत्रण कर लिया। तिब्बत के ज़्यादातर लोगों ने चीनी कब्ज़े का विरोध किया। 1956 में चीन के शासनाध्यक्ष भारत के आधिकारिक दौरे पर तिब्बत के नेता के साथ पहुँचे।”

- (i) तिब्बत का पठार कहाँ स्थित है ?
- | | |
|----------------------|------------------------|
| (A) मध्य एशिया | (B) पूर्व एशिया |
| (C) चीन के पूर्व में | (D) भारत के पश्चिम में |
- (ii) 1956 में चीन के कौन-से नेता चीन के शासनाध्यक्ष के रूप में भारत आए थे ?
- (A) माओ
(B) दलाई लामा
(C) चाऊ एन लाई
(D) हु-जिनताओ
- (iii) ‘पंचशील समझौता’ पर भारत और चीन के बीच किस वर्ष हस्ताक्षर किए गए ?
- (A) 1952
(B) 1953
(C) 1954
(D) 1955
- (iv) दलाई लामा ने किस देश से शरण माँगी थी ?
- (A) नेपाल
(B) भूटान
(C) भारत
(D) चीन



SECTION D

24. Read the following passage carefully and answer the questions based on it :

4×1=4

“Tibet is one of the major issues that historically caused tension between India and China. From time to time in history, China had claimed administrative control over Tibet and from time to time, Tibet was independent too. In 1950, China took over the control of Tibet. Large sections of the Tibetan population opposed this takeover. The Tibetan leader accompanied the Chinese Premier during his official visit to India in 1956.”

- (i) Where is the plateau of Tibet situated ?
- (A) Central Asia (B) East Asia
(C) In the East of China (D) In the West of India
- (ii) Choose the name of the Chinese leader that came to India in 1956 as the Chinese Premier.
- (A) Mao
(B) Dalai Lama
(C) Zhou Enlai
(D) Hu-Zintao
- (iii) In which year was the ‘Panchsheel agreement’ signed between India and China ?
- (A) 1952
(B) 1953
(C) 1954
(D) 1955
- (iv) From which country did Dalai Lama ask for asylum ?
- (A) Nepal
(B) Bhutan
(C) India
(D) China



25. भारत के दिए गए राजनीतिक रेखा-मानचित्र (पृष्ठ 13 पर), में चार राज्यों को (A), (B), (C) और (D) के रूप में अंकित किया गया है। नीचे दी गई जानकारी के आधार पर, इन राज्यों की पहचान कीजिए और अपनी उत्तर-पुस्तिका में इनके सही नाम, प्रयोग की गई जानकारी की क्रम संख्या तथा मानचित्र में दिया गया संबंधित अक्षर, नीचे दी गई तालिका के रूप में लिखिए :

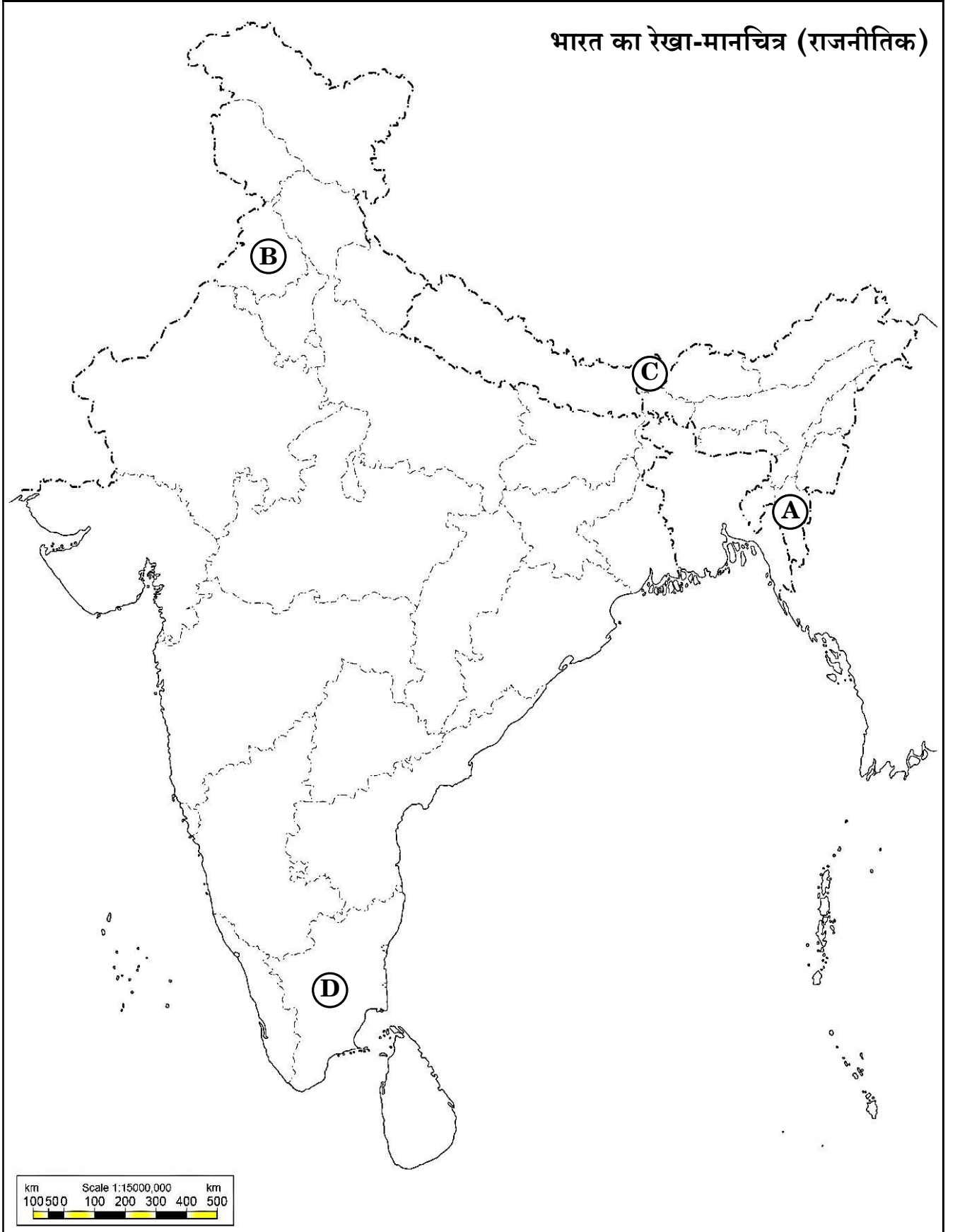
4×1=4

प्रयोग की गई जानकारी की क्रम संख्या	मानचित्र में दिया गया संबंधित अक्षर	राज्य का नाम
(i)		
(ii)		
(iii)		
(iv)		

- (i) राजीव गाँधी – लोंगोवाल समझौते से संबंधित राज्य
- (ii) मई 1975 में भारत में शामिल होने वाला राज्य
- (iii) समाज सुधारक ई.वी. रामास्वामी से संबंधित राज्य
- (iv) मुख्य मंत्री लालडेंगा से संबंधित राज्य



प्रश्न सं. 25 के लिए





- 25.** In the given political outline map of **India** (on page 15), four States have been marked as (A), (B), (C) and (D). Identify these States on the basis of the information given below and write their correct names in your answer-book along with the respective serial number of the information used and the concerned alphabets given in the map as per the following format :

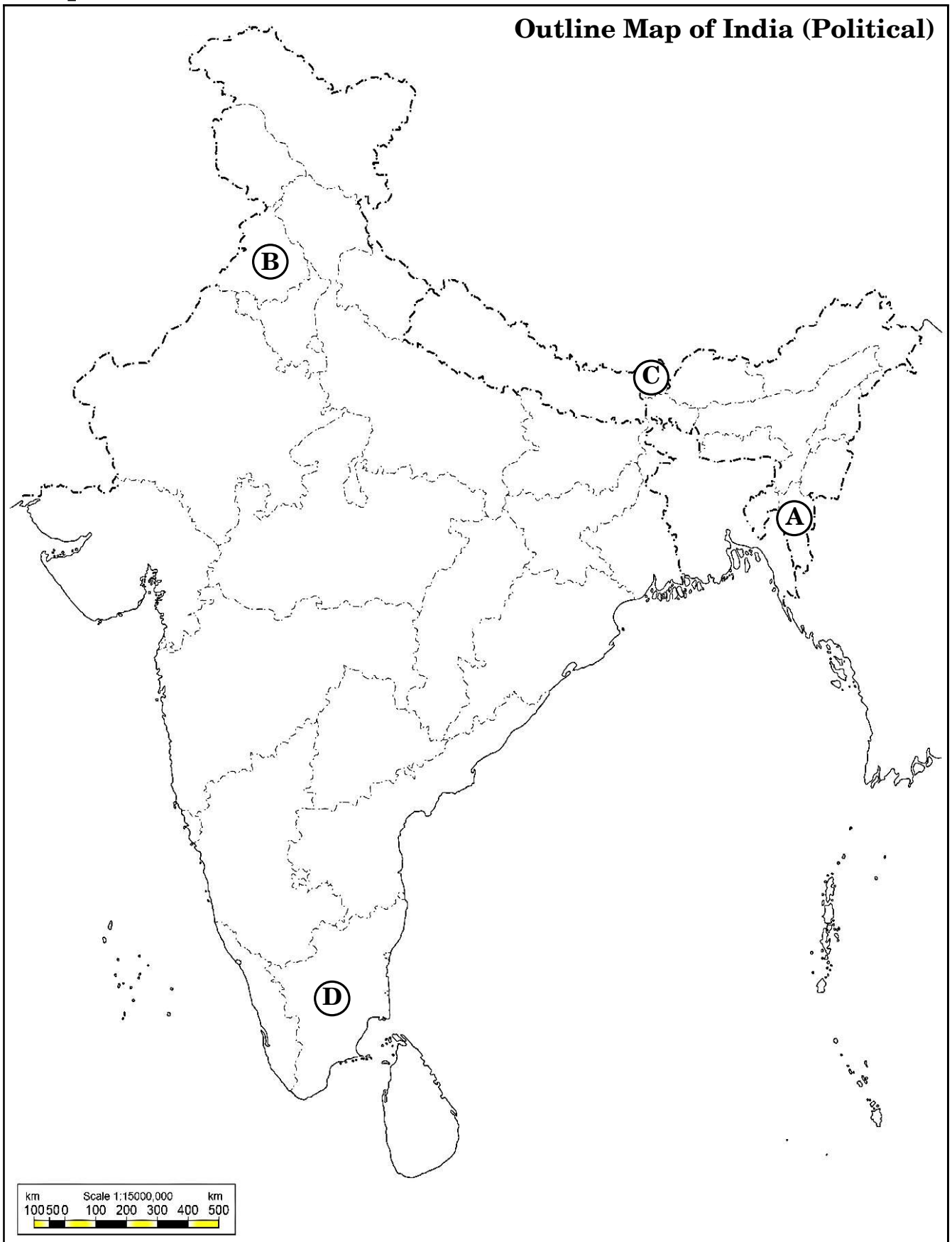
4×1=4

Serial number of the information used	Concerned alphabet given in the map	Name of the State
(i)		
(ii)		
(iii)		
(iv)		

- (i) The State related to Rajiv Gandhi – Longowal Accord
- (ii) The State which merged with India in May 1975
- (iii) The State to which social reformer E.V. Ramasami belonged
- (iv) The State to which Chief Minister Laldenga belonged



For question no. 25





नोट : निम्नलिखित प्रश्न केवल दृष्टिबाधित परीक्षार्थियों के लिए प्रश्न संख्या 25 के स्थान पर हैं : $4 \times 1 = 4$


(25.1) उस राज्य का नाम लिखिए जिसका संबंध राजीव गाँधी – लोंगोवाल समझौते से था।

(25.2) मई 1975 में भारतीय संघ में सम्मिलित होने वाले राज्य का नाम लिखिए।

(25.3) मुख्य मंत्री लालडेंगा का संबंध किस राज्य से था ?

(25.4) उस राज्य का नाम लिखिए जहाँ से समाज सुधारक ई.वी. रामास्वामी का संबंध था।

26. नीचे दिए गए कार्टून का अध्ययन कीजिए और इस पर आधारित प्रश्नों के उत्तर दीजिए : $4 \times 1 = 4$



(i) छड़ी के एक सिरे पर बैठा 'शेर' किस समुदाय का प्रतिनिधित्व कर रहा है ?

- | | |
|------------|----------|
| (A) बौद्ध | (B) ईसाई |
| (C) सिंहली | (D) तमिल |

(ii) कार्टून में दिखाए गए बाघ (टाइगर) पर लिखे शब्द 'LTTE' का क्या अर्थ है ?

- | |
|---------------------------------|
| (A) लिबरेशन टाइगर्स ऑफ द ईलम |
| (B) लिबरेशन तमिल्स ऑफ द ईलम |
| (C) लिबरेशन टाइगर्स ऑफ तमिल ईलम |
| (D) लिबर्टी टाइगर्स ऑफ तमिल ईलम |

(iii) श्रीलंका में कौन-से समुदाय ने भेदभाव को अनुभव किया था ?


- | | |
|-----------|------------|
| (A) तमिल | (B) सिंहली |
| (C) बौद्ध | (D) ईसाई |



Note : The following questions are for the **Visually Impaired Candidates** only, in lieu of Q. No. 25 : 4×1=4

- (25.1) Name the state to which the Rajiv Gandhi – Longowal Accord was related.
- (25.2) Name the state which joined the Union of India in May 1975.
- (25.3) Which state did Chief Minister Laldenga belong to ?
- (25.4) Name the state to which social reformer E.V. Ramasami belonged.

26. Study the cartoon given below and answer the questions based on it : 4×1=4



- (i) Which community is being represented by the 'Lion' sitting on the one end of the stick ?
 - (A) Buddhists
 - (B) Christians
 - (C) Sinhalas
 - (D) Tamils
- (ii) What is the meaning of 'LTTE' written on the Tiger shown in the cartoon ?
 - (A) Liberation Tigers of the Eelam
 - (B) Liberation Tamils of the Eelam
 - (C) Liberation Tigers of Tamil Eelam
 - (D) Liberty Tigers of Tamil Eelam
- (iii) Which community in Sri Lanka had felt discriminated ?
 - (A) Tamils
 - (B) Sinhalas
 - (C) Buddhists
 - (D) Christians



(iv) कार्टून कौन-सी समस्या को दर्शा रहा है ?

(A) आर्थिक असंतुलन

(B) राजनीतिक अस्थिरता

(C) क्षेत्रीय विवाद

(D) जातीय विवाद

नोट : निम्नलिखित प्रश्न केवल दृष्टिबाधित परीक्षार्थियों के लिए प्रश्न संख्या 26 के स्थान पर हैं : $4 \times 1 = 4$

(26.1) श्रीलंका के दो प्रमुख समुदायों के नाम लिखिए।

(26.2) इन दोनों समुदायों के बीच विवाद का मुख्य मुद्दा क्या था ? स्पष्ट कीजिए।

(26.3) भारत ने श्रीलंका में शांति बनाने के लिए किस प्रकार सहायता की ?

(26.4) उन दो देशों के नाम लिखिए जिन्होंने श्रीलंका में लड़ रहे दोनों समुदायों को वापस बातचीत के लिए तैयार किया।

खण्ड ड

27. (क) यूरोपीय संघ को एक प्रभावशाली क्षेत्रीय संगठन बनाने वाले किन्हीं तीन कारकों की व्याख्या कीजिए। $3 \times 2 = 6$

अथवा

(ख) चीन में किए गए किन्हीं तीन परिवर्तनों की व्याख्या कीजिए जिससे इसकी अर्थव्यवस्था का उत्थान हुआ। $3 \times 2 = 6$

28. (क) अपारम्परिक सुरक्षा के लिए खतरों के किन्हीं तीन नए स्रोतों की व्याख्या कीजिए। $3 \times 2 = 6$

अथवा

(ख) पारम्परिक सुरक्षा नीति के किन्हीं तीन घटकों की व्याख्या कीजिए। $3 \times 2 = 6$

29. (क) 1947 में ब्रिटिश इंडिया के विभाजन के किन्हीं चार परिणामों का वर्णन कीजिए। $4 \times 1 \frac{1}{2} = 6$

अथवा

(ख) हैदराबाद रियासत के भारत में शामिल होने से पूर्व उससे जुड़ी किन्हीं चार घटनाओं का वर्णन कीजिए। $4 \times 1 \frac{1}{2} = 6$

30. (क) “अनेक महत्वपूर्ण मुद्दों पर, भारत में अधिकांश राजनीतिक पार्टियों के बीच एक व्यापक सहमति उभरी है।” किन्हीं तीन उदाहरणों से इस कथन का समर्थन कीजिए। $3 \times 2 = 6$

अथवा

(ख) “राष्ट्रीय मोर्चा की सरकार द्वारा मंडल आयोग की सिफारिशों को लागू करने के निश्चय से अन्य पिछड़े वर्गों (ओ.बी.सी.) का राजनीति में उदय हुआ।” तीन उदाहरणों अथवा तर्कों से कथन की पुष्टि कीजिए। $3 \times 2 = 6$



- (iv) Which problem is being depicted by the cartoon ?
(A) Economic imbalance (B) Political instability
(C) Regional conflict (D) Ethnic conflict

Note : The following questions are for the **Visually Impaired Candidates** only, in lieu of Q. No. 26 : 4×1=4

- (26.1) Name the two important communities of Sri Lanka.
(26.2) What was the main issue of conflict between these two communities ? Explain.
(26.3) How did India help Sri Lanka to maintain peace ?
(26.4) Name the two countries that tried to bring the warring groups back to negotiations in Sri Lanka.

SECTION E

27. (a) Explain any three factors that make the European Union an effective regional organisation. 3×2=6

OR

- (b) Explain any three changes made in China that raised the growth of its economy. 3×2=6

28. (a) Explain any three new sources of threats to non-traditional security. 3×2=6

OR

- (b) Explain any three components of traditional security policy. 3×2=6

29. (a) Describe any four consequences of the partition of British India in 1947. $4 \times 1 \frac{1}{2} = 6$

OR

- (b) Describe any four events related to the princely state of Hyderabad prior to its accession to India. $4 \times 1 \frac{1}{2} = 6$

30. (a) “On many crucial issues, a broad agreement has emerged among most political parties in India.” Support the statement with any three examples. 3×2=6

OR

- (b) “The decision of the National Front government to implement the recommendations of the Mandal Commission helped in shaping the politics of Other Backward Classes (OBCs).” Support the statement with three examples or arguments. 3×2=6